


ȘI TU POTI SĂ FII CAMPION LA MATEMATICĂ!



1. Numără steluțele.



de steluțe

RĂSPUNS

1. 😊 😐

2. 😊 😐

3. 😊 😐

4. 😊 😐

5. 😊 😐

6. 😊 😐

7. 😊 😐

8. 😊 😐

2. Câte dulciuri sunt în total?



dulciuri


3. Efectuează înmulțirea!

$$3 \times 5 = \text{$$

4. Completează căsuța cu termenul corespunzător.

$$15 + \text{$$

5. Colorează cercul.



6. Încercuiește șarpele mai lung.



7. Câte pahare sunt? Dar felii de lămâie? Trasează pentru fiecare numărul corespunzător de liniuțe.



pahare	<input type="text"/>
felii de lămâie	<input type="text"/>


8. Încercuiește rândul pe care sunt cele mai puține mașini.



1. Scrie cu cifre numărul șaizeci.
Respect pentru oameni și cărți



2. Câte pere sunt în total, fără cea tăiată?



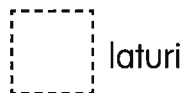
3. Efectuează înmulțirea!

$$7 \times 4 = \boxed{}$$


4. Colorează adunările al căror rezultat este 40.

10 + 30	20 + 40
20 + 20	40 + 0

5. Câte laturi are un dreptunghi?



6. Încercuiește pantalonii mai scurți.



7. Privește tabelul. Câte creioane albastre sunt?



8. Pe lângă cele zece flori pe care le are, Ana mai primește încă una. Câte flori are acum?



RĂSPUNS

1. 😊 😐

2. 😊 😐

3. 😊 😐

4. 😊 😐

5. 😊 😐

6. 😊 😐

7. 😊 😐

8. 😊 😐

/8

Total

1. Câte pătrate sunt în total?



pătrate

2. Câți cactuși sunt în total?
Efectuează operația de adunare.



8 + 6 =

3. Efectuează înmulțirea!

$$\begin{array}{r} 2 \times \\ 4 \\ \hline \end{array}$$

4. Completează căsuța cu simbolul matematic corespunzător!


+ - × :

2 3 = 6

5. Desenează cealaltă jumătate a cercului.



6. Cine cântărește mai mult?
Încercuiește imaginea potrivită.



7. Câți elevi preferă matematica?
Scrie răspunsul pe linia punctată.

PREFERĂ	
MATEMATICA	☺☺☺☺☺☺☺
CITIREA	☺☺☺☺
SCRIEREA	☺☺☺☺☺☺☺☺

8. Lia este ultima, Mihai este primul, iar Sara la mijloc.
Notează, sub fiecare nume, numărul corespunzător ordinii copiilor – 1, 2 sau 3?

SARA	LIA	MIHAI
<input type="text"/>	<input type="text"/>	<input type="text"/>

RĂSPUNS

1. ☺☹

2. ☺☹

3. ☺☹

4. ☺☹

5. ☺☹

6. ☺☹

7. ☺☹

8. ☺☹

1. Ce numere se află înainte și după 43?

ÎNAINTE	NUMĂR	DUPĂ
	43	

2. Câte bile rămân? Efectuează operația de scădere în căsuțele de mai jos.



$$\boxed{} - \boxed{} = \boxed{}$$

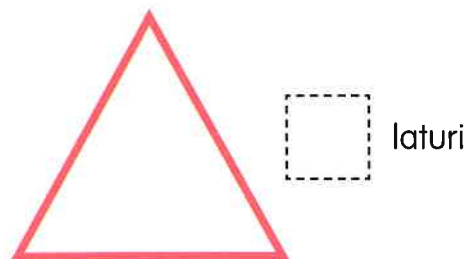
3. Efectuează împărțirea!

$$4 : 2 = \boxed{}$$


4. Privește cu atenție seria logică, apoi desenează în spațiile libere figurile geometrice corespunzătoare.



5. Câte laturi are această figură geometrică?



6. Cât este ora?



Este ora _____

7. Câți elevi preferă lectura? Scrie răspunsul pe linia punctată.

ACTIVITATE PREFERATĂ	
JOCURI VIDEO	
LECTURĂ	
JOCURI DE SOCIETATE	

8. Nora are 4 biscuiți, din care mănâncă doi. Câți biscuiți îi mai rămân?

$\boxed{}$ biscuiți

RĂSPUNS

1. 😊 😐

2. 😊 😐

3. 😊 😐

4. 😊 😐

5. 😊 😐

6. 😊 😐

7. 😊 😐

8. 😊 😐


/8

Total

1. Ce număr se află între cele două de mai jos?

28 30

2. Câte felii de pepene rămân? Efectuează operația de scădere în căsuțele de mai jos.



- =

3. Efectuează înmulțirea!

2 x 6 =


4. Colorează operațiile al căror rezultat este 10.

1 + 7	2 x 5
2 + 8	20 : 2

5. Care obiect seamănă cu figura geometrică din stânga? Încercuiește imaginea potrivită.



6. Încercuiește broasca mai mare.



7. Câte medalii a câștigat Carmen? Scrie răspunsul pe linia punctată.



8. Maria are cu doi ani mai mult decât Tiberiu. Tiberiu are 6 ani. Câți ani are Maria?

ani

RĂSPUNS

1. 😊 😞

2. 😊 😞

3. 😊 😞

4. 😊 😞

5. 😊 😞

6. 😊 😞

7. 😊 😞

8. 😊 😞

/8

Total

1. Ce număr scrii când auzi „al șaptelea”?



2. Câte curcubeie rămân?
Efectuează operația de scădere în căsuțele de mai jos.



$$\square - \square = \square$$

3. Efectuează împărțirea!

$$14 : 2 = \square$$

4. Completează căsuța cu termenul corespunzător.

$$15 - \square = 7$$

5. Desenează un copac, apoi un soare deasupra copacului.

6. Cât de lungă este linia?



Linia este lungă cât

\square creioane.

7. Câte liniuțe trasezi pentru fiecare animăluț?
Sunt 7 pisici și 9 căței.

PISICI	
CĂȚEI	

8. Colorează numerele alcătuite doar din linii drepte.

0	1	2	3	4
5	6	7	8	9

RĂSPUNS

1. 😊 😐

2. 😊 😐

3. 😊 😐

4. 😊 😐

5. 😊 😐

6. 😊 😐

7. 😊 😐

8. 😊 😐

/8

Total